




Consignes : 1. L'usage de la calculatrice programmable est interdit 2. Le téléphone est interdit dans les salles  
3. Le silence est obligatoire

Durée de l'épreuve : 3 hrs 30

### Série A : Dissertation ou Étude de tableau

Sujet : Montrez qu'un Vèvè exprime l'abstraction et possède un aspect géométrique.

Étude d'œuvre sculptée



Fiche technique

- Titre : Le baiser
- Auteur : Auguste Rodin
- Nature : Sculpture

#### Étape 1 : Expliquez ce qui est mis sous vos yeux

Titre de l'œuvre / le nom de l'artiste / date de réalisation / les dimensions / la nature de l'œuvre / la technique / support

- Le lieu d'exposition ou de convention
- Le genre
- Le sujet
- L'espace
- Les couleurs

#### Étape 2 : Le rapport avec le spectateur

- A qui s'adresse l'œuvre?
- Quelle est la place du spectateur devant l'œuvre?
- Que ressent-il face à l'œuvre?

#### Étape 3 : Interprétation

Devinez ce que l'artiste a voulu représenter

- Le message

### Série B :

1- Citez : Trois Patrimoines bâtis nationaux

Trois Patrimoines naturels

Trois Patrimoines médicinaux

2- Regroupez ces mots en deux colonnes : Jacques Louis David, Primitif, Dewitt Peters, Serment des Horaces, 1944, Retour à l'antiquité, Naïf, Héroïsme, Promotion de l'art, Grandeur, Populaire

Centre d'art	Néoclassique

3- Remplissez ce tableau

	Albert Mangonès	Préfète Dufaut	Hector Hyppolite
Domaine de l'art			
Ville Natale			

### Série C :

1- Trouvez le mot manquant à partir de la réponse du # 3 :

- 1) \_\_\_\_\_ n'est jamais gratuite
- 2) \_\_\_\_\_ doit être une fête pour l'œil
- 3) Comment s'appelle le résultat du travail de l'artiste?

2- Analysez ce tableau :



Guillaume Guillon Lethière.

- 1) Que font les principaux personnages? A quels événements ce document fait-il allusion?
- 2) Quelle est la date du document? Son auteur? Sa nature?
- 3) Que représentent les 2 principaux personnages?

3- Arrangez les loas suivants selon leur équivalence grecque : Erzulie, Ogoun. Agoue, Bawon samdi, Ogoun feray.

4- Quelle est l'équivalence de la bande dessinée Arielle (la petite sirène) dans les contes haïtiens?

Zeus	Poséidon	Hadès	Harès	Aphrodite

**Série D :**

1- Quel personnage était : Lumane Casimir  
Cornélia Schutt (Ticorne)

2- Remplissez ce tableau :

	Argentine	Brésil	USA	Hollande
Danse				

3- Soulignez la bonne réponse.

4- Le banda se danse au mois de :  
a) mai            b) novembre        c) décembre

5- Définissez danse latine.

6- Dans une salle de danse classique quel est l'outil le plus important?

7- Quelle est la première personne à avoir chaussé les pointes? En quelle année?

8- Quels sont les arts de la scène?

**Série E :**

1- Identifiez par X les accords mal-construits.

C7    E-7    F7    D-7    A7    Cmaj7    Cmaj7

2- Donnez le nombre de dièse ou de bémol dans chacune de ces gammes.

Fmaj = \_\_\_\_\_ E<sup>b</sup>maj = \_\_\_\_\_

C<sup>#</sup>maj = \_\_\_\_\_ Gmaj = \_\_\_\_\_

B<sup>b</sup>maj = \_\_\_\_\_ F<sup>#</sup>m = \_\_\_\_\_

3- Entourez le temps fort de chaque mesure et donnez l'unité de temps de chaque portée.

Unité de temps R-

Unité de temps R-

4- Complétez avec les mots suivants : Quintette à cordes, quatuor à cordes, orchestre philharmonique, brasse, quintette à vent, accapella.

- Un groupe qui réunit toutes les familles d'instrumentas \_\_\_\_\_
- 2 violons, 1 viola, 1 violoncelle \_\_\_\_\_
- Un groupe qui réunit seulement les cuivres \_\_\_\_\_
- Un groupe qui réunit les voix de la femme et de l'homme \_\_\_\_\_
- Un groupe qui réunit 5 saxophones et un piano \_\_\_\_\_
- Un groupe ayant 1 violoncelle, 2 violons, 1 alto, 1 viola \_\_\_\_\_

5- Ajoutez ceux qui manquent pour que ces relatifs soient corrects.

G maj

E m

C maj

A m



Consignes : 1. L'usage de la calculatrice programmable est interdit  
3. Le silence est obligatoire

2. Le téléphone est interdit dans les salles

Durée de l'épreuve : 3 hres

## Série A : Dissertation

### Un sujet au choix (20 pts)

- 1- La valeur de l'œuvre d'art se trouve-t-elle dans l'objet d'art ou dans l'artiste?
- 2- En quoi la philosophie est-elle utile à l'art?

### Questions obligations

#### Le patrimoine

- 1) Soulignez parmi ces éléments ceux qui méritent d'être préservés comme patrimoine et dites-en pourquoi.  
La maison du président Borno, les maisons Shotgun et Gingerbread, la rue Monseigneur Guilloux, la danse yanvalou, le bal de fin d'année de Tropicana, la formation musicale Septentrionale, les documents d'Archives Nationales, les anciennes monnaies nationales.

### Série B : (15 pts)

- 1- En quelle année le plus récent palais national fut-il détruit ?
- 2- En quelle occasion la cathédrale coloniale de Port-Au-Prince fut-elle incendiée?
- 3- Quel autre nom donne-t-on au marché Hyppolite?
- 4- Quel a été l'ancien nom de la commune de Pétion-Ville?

### Série C : (15 pts)

- 1- Faites correspondre les œuvres aux auteurs :
 

1) Panorama de l'art haïtien	a) Michel Ange
2) La naissance de Vénus	b) Hector Hyppolite
3) Les Zombis	c) Philippe Thoby Marcelin
4) David	d) Sandro Botticelli.

- 2- Remplissez les colonnes vides avec les termes appropriés

Patrimoine culturel mobilier	patrimoine culturel immobilier	patrimoine culturel subaquatique	patrimoine culturel immatériel	patrimoine culturel naturel

- a) Monnaies
  - b) La pinta
  - c) Vertière
  - d) Boulet de canon
  - e) Soins traditionnels contre la grippe
  - f) Saut d'eau
- 3- Recruté à Saint-Marc par Dewitt Peters au Centre d'art, il fut considéré par Lisa Bastien comme l'artiste le plus célèbre, en dépit de sa courte carrière d'artiste de 1945 à 1948, Son œuvre est

critiquée d'imperfection. Cependant ses œuvres jouissaient d'une harmonie poétique d'un univers de rêves et du mysticisme qui se manifeste dans ses 200 tableaux.

Son Nom est : \_\_\_\_\_


### Série D : Arts plastiques (25 pts)

Encerchez la bonne réponse :


- 1- L'un des crayons suivants est un crayon pâle
  - a) HB
  - b) FB
  - c) B6
  - d) HB2
- 2- Complétez les phrases suivantes :
  - a) Les crayons sont classés du plus sec au \_\_\_\_\_
  - b) La droite qui forme un angle droit avec une autre donnée s'appelle \_\_\_\_\_
- 3- Faites une comparaison entre peinture et dessin.
- 4- Trouvez la réponse convenable.  
Parmi les fruits suivants crochez ceux qui ont la forme d'ellipses.
  - a) Grenadia
  - b) Orange
  - c) Melon
  - d) Chadèque
  - e) Figue banane
  - f) Papaille
- 5- Soulignez les figures géométriques qui sont nécessaires dans la construction d'une maison.
  - a) Carré
  - b) Ovale
  - c) Rond
  - d) Triangle
  - e) Rectangle.
- 6- Comment reconnaît-on les gammes d'un crayon?
- 7- Comment peut-on former un angle aigu à partir de deux lignes?
- 8- Quelle est la mesure d'un angle obtus?
- 9- Une perpendiculaire est-elle faite de la même manière qu'un obtus?
- 10- L'angle aigu et l'angle droit sont deux figures géométriques : sont-ils égaux?

**Série E: Musique (25 pts)**

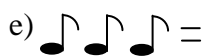
1) Placez les dièses.



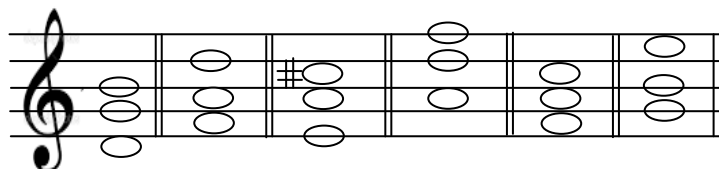
2) Construisez la gamme de Mi<sup>b</sup>. N'oubliez pas que les demi-tons doivent se trouver entre 3<sup>e</sup> et 4<sup>e</sup> entre 7<sup>e</sup> et 8<sup>e</sup> degrés de la gamme diatonique majeure.



3) Écrivez une seule note qui a la valeur de chaque groupe de notes.



4) Identifiez la fondamentale de chacun des accords suivants :



Ex G 1. \_\_\_ 2. \_\_\_ 3. \_\_\_ 4 \_\_\_ 5\_\_

5) Établissez la différence entre la mesure et une mesure.

Consignes : 1. L'usage de la calculatrice programmable est interdit  
3. Le silence est obligatoire

2. Le téléphone est interdit dans les salles

Durée de l'épreuve : 2 hres 30.

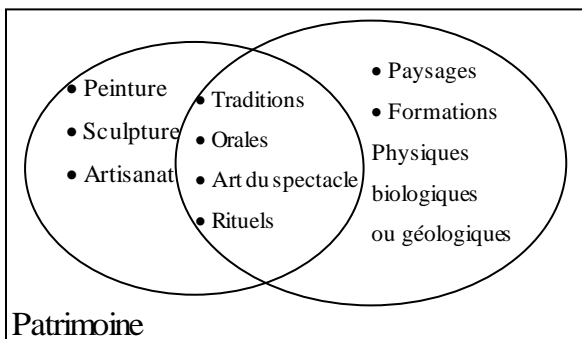
**Série A : Dissertation (20 pts.)**

**Un sujet au choix**

- Comment le Centre d'Art a-t-il contribué au développement de la peinture haïtienne?
- Montrer que les primitifs et les Non-primitifs appartenaient à la peinture haïtienne.
- L'art est un métier ou un passe-temps :  
Qu'en pensez-vous?

**Série B : Questions Obligatoires (15 pts.)**

- Trouver les mots manquants :
  - Déclaré Patrimoine mondiale par \_\_\_\_\_ en 1982, \_\_\_\_\_ témoigne de la grande vision de son réalisateur, \_\_\_\_\_.
  - \_\_\_\_\_ est le lieu où se retrouvent certains tableaux et monuments du vestige National dont la couronne de Soulouque.
- Quels sont les patrimoines culturels immatériels de l'ensemble ci-dessous.



- Relever trois artistes peintres dont les tableaux sont imprégnés du vodou.  
André Pierre, Wilson Bigaud, Hector Hyppolite Prefete Duffaut, Delacroix, Paul Gauguin.
- De quels artistes peintres haïtiens sont les tableaux titrés : Les Zombis, Les villes Imaginaires, Erzulie?
- Rapporter au tableau ci-dessous les disciplines artistiques dans les catégories d'art :
  - Peinture, Sculpture, dessin,
  - Musique, Théâtre, danse
  - Cinéma, Vidéographie, Infographie, Photographie

Arts Visuels	Arts de la scène	Arts plastiques

**Série D : Arts plastiques (25 pts.)**

- Pourquoi dit-on qu'un dessin est simplifié, s'il est simple, est-il complet ou non?
- Le contour d'un dessin n'est pas compliqué, à ce moment, on parle de forme floue. Quand est-ce un dessin est flou?
- Un dessin peut être gravé ou peint. Quelle est la nature des lignes?
- De combien de façon se présente une couleur?
- Que représentent le blanc et le noir dans un dessin?

**Série : D Musique (25 pts.)**

- Ajouter la note manquant dans chaque mesure pour former l'intervalle demandée.

Quarte Sixte Tièce Septième Segonde Quinte

- Souligner la bonne réponse :
  - Celui qui a écrit la mélodie de l'hymne nationale haïtienne est :
    - Augustin Brino
    - Nicolas Geffrad
    - Justin L'Hérissou
    - Occide Jeanty
  - Le lied Gotte Erhate composé en 1797 devient par la suite l'hymne nationale Autrichien et depuis 1922 l'hymne nationale Allemande.
    - Wolfgang Amadéus Mozart
    - Frédéric Chopin
    - Joseph Haydon
    - Ludwig Van Beethoven
  - Comment se compose l'accord septième majeur?
  - Quelles sont les principales nouveautés dans la période romantique?
  - Quel musicien attaché pendant plus de trente ans en qualité de directeur musical à la chapelle du prince Esterhazy.



Consignes : 1. L'usage de la calculatrice programmable est interdit  
3. Le silence est obligatoire

2. Le téléphone est interdit dans les salles

Durée de l'épreuve : 2 hres 30.

**Série A : Dissertation (20 pts.)**

Un sujet au choix.

- 1) Montrer du point de vu créatif ce qui constitue le point commun entre les primitifs et les sophistiqués.
- 2) Que pensez-vous de cette assertion de Dewitt Peters : « L'art Haïtien est le fruit d'une baguette magique » ?

**Questions obligations Série B : (15 pts.)**

- 1- Rapporter le nom du sculpteur Haïtien à son œuvre au tableau :
- Gustave Eiffel, Carpeaux, Albert Mangonès, François Rude.

La liberté éclaire le monde	La Dance	Le Nègre marron	Le départ volontaire

- 2- Parmi ces patrimoines mondiaux, relever ceux qui sont d'Haïti :
- a) L'arc de Triomphe de l'étoile
  - b) Le colisée
  - c) La Citadelle La ferrière
  - d) Les trois grandes Pyramides
  - e) Fort Jacques et Alexandre

- 3- Monument Vieux de 250 ans, construit sous le règne du Roi Henry Christophe, et qui a été incendié par des inconnus en février 2020.  
Il s'agit .....

- 4- Pour l'inauguration du Centre d'art, combien de tableaux Haïtiens a-t-on présenté dans l'exposition?

- 5- Regrouper les artistes qui étaient membres du Centre d'Art :
- Michel-Ange, Gerald Blancourt, Pétion Savain, Delacroix, Lucien Price, Braque, Jean Dominique Jugrès, Maurice Borno.

**Série C : Arts Plastiques (25 pts.)**

- 1) Décrire les types de crayons qu'on peut utiliser dans la réalisation d'un dessin.
- 2) On a six gammes de crayons. En déduire le type de crayon dont on doit commencer un dessin.
- 3) Quel est le crayon qui donne la gamme la plus foncée?
- 4) On donne quatre (4) points AB et CD utilisez les pour construire une boîte.
- 5) Définir les vocables suivants : Points- Médium- Acrylique.

**Série E : Musique.**

- 1) Souligner la bonne réponse.

Nait d'un père français et d'une mère polonaise, à six ans, la petite joue dans des concerts de bienfaisance et dans les salons des riches.

- a) Ludwig Van Beethoven
- b) Joseph Haydn
- c) Johann Sébastien Bach
- d) Frédéric Chopin
- e) Wolfgang Amadeus Mozart
- f) Georg Frederuch Haendel

- b) Quel musicien à 4 ans déjà compositeur de la musique, son génie s'est manifesté sans effort et sans défaillance dans son œuvre formidable.

- a) Ludwig Van Beethoven
- b) Joseph Haydn
- c) Johann Sébastien Bach
- d) Frédéric Chopin
- e) Wolfgang Amadeus Mozart
- f) Georg Frederuch Haendel

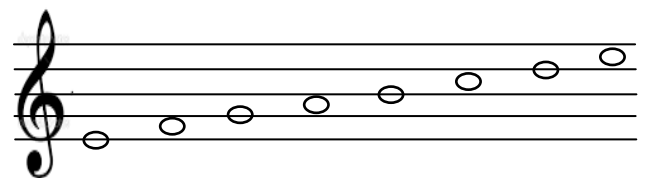
- 2) Former un accord septième.

3) Compléter :

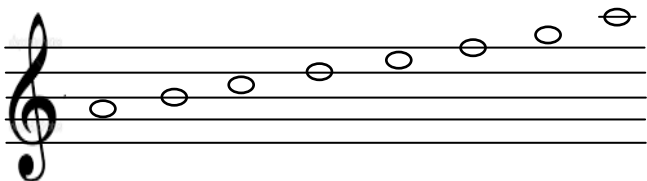
Intervalle de deux degré est un \_\_\_\_\_  
Intervalle de cinq degré est un \_\_\_\_\_  
Intervalle de même degré est un \_\_\_\_\_

- 4) Ajouter le nombre de dièse ou de bémol après 'a clé pour former les gammes suivantes : La clé est au choix.

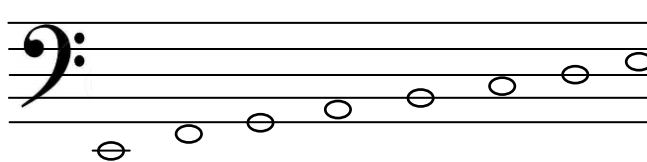
Mi M



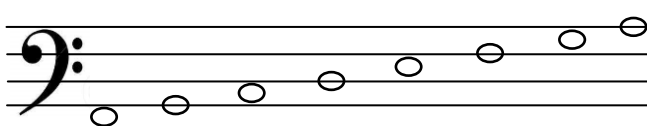
La M



Mi M



La M



- 5) Trouver la bonne réponse :

Celui qui a écrit le texte de l'hymne nationale Haïtienne.

- a) Justin L'hérison
- b) Occide Jeanty
- c) Nicolas Geffrad
- d) Augustin Bruno



Consignes : 1. L'usage de la calculatrice programmable est interdit  
3. Le silence est obligatoire

2. Le téléphone est interdit dans les salles

Durée de l'épreuve : 3 hres 30.

**Série A : Dissertation**

**Un sujet au choix**

- 1) Quel était le rôle du mouvement indigéniste dans le développement de la peinture haïtienne?
- 2) Peut-on attribuer la paternité de la peinture haïtienne à Dewitt Peters?
- 3) Trois courants de pensée s'affrontent quand il faut parler de l'existence de la peinture haïtienne : Le courant inclusif, exclusif et moderniste. Défendez l'un d'entre eux avec des arguments solides.

**Questions obligatoire.**

Autour du centre d'art.

- a. Citez quatre parmi les peintres qui étaient au côté de Dewitt Peter dans les démarches pour la fondation du centre d'Art.
- b. Quand et où a lieu la première grande exposition du centre d'art?
- c. Combien d'artiste ont participé à cette première exposition? Citez en cinq?
- d. Quels sont les membres composant le premier directoire du centre d'art et leurs fonctions?
- e. Quand a eu lieu la grande division division du centre d'art?
- f. Encercliez :  $\frac{2}{3} / \frac{1}{3} / \frac{1}{2}$  des artistes ont laissé le centre d'art pour le foyer des arts plastiques.
- g. Peter a qualifié les premiers artiste du Centre d'Art de :
  - a) Primitif
  - b) Sophistiqué
  - c) Naïf
  - d) Archaïque

**Série B :**

**Question d'habilité.**

- 1) Le centre a permis l'émergence de plusieurs artistes haïtiens de renom sur la scène internationale : Pierre André, Hector Hyppolite, Jasmin Joseph, Prefete Dufault, Rigaud Benoit, Obin Philome... pouvez-vous parler en quelques lignes (15 lignes maximum) de deux d'entre eux.
- 2) Relatez soit par une déclaration ou un évènement ou une date le passage de deux visiteurs de renom (artiste ou écrivain) en Haïti avec l'arrivée du centre d'art.
- 3) Quelle était la fameuse question de Peter après ses premières observations en arrivant à Haïti? Observons qui va lui pousser jusqu'à la fondation du centre.
- 4) Au Champ de mars, Peter a fait connaissance d'un artiste et écrivain important, lequel?
- 5) Il faut comprendre que malgré une certaine période de décadence, le Centre d'art a ouvert la voie à plusieurs galeries et mouvement artistiques. Pouvez-vous citez quelques-uns.

**Questions d'intelligence.**

- 1) Que veut dire l'expression « mise en abyme »
  - a) Jeter dans l'abîme
  - b) Une œuvre dans une œuvre
  - c) Sortir du néant.
- 2) L'anglicisme Folklore signifie?
- 3) Comment s'appelle un tombeau de grande envergure :
  - a) Mausolée
  - b) Pyramide
  - c) Cave
- 4) Que signifie l'ISPANH?
  - 1- Quel héro figure sur les billets de 1000 gourdes et 50 gourdes?
  - 2- Quels sont les éléments qui composent l'emblème?
  - 3- Dans les mains de ces statues il y a :
 

- Pétion	Épée
- Dessalines	Le truc de son cheval
- Neg Marron	Lambi
- Toussaint	

**Série D : Arts plastique**

1. Ajouter dans la phrase la réponse convenable.
  - a) Orange
  - b) Figue banane
  - c) Melon
  - d) Citron
 La forme ronde est faite pour quel type de fruit-----
2. Quelle est la couleur principale de la perspective aérienne?
3. Encercler la bonne réponse
  - a) Perspectives
  - b) Rond
  - c) Perpendiculaire
  - d) Ovale
 Dans la réalisation d'un paysage, le dessinateur doit appliquer :
4. Citer les figures géométriques pouvant former une maison.
5. Pourquoi dit-on la couleur rouge est primaire?

**Série C : Musique**

**1) Souligner la bonne réponse.**

Le premier ancêtre haïtien était un passionné de la musique. Il possédait son propre orchestre de quarante musiciens.

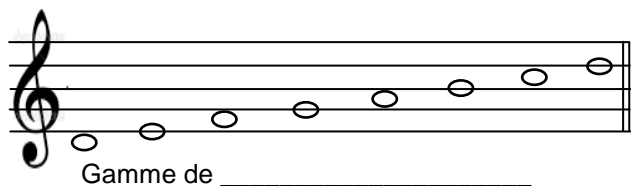
- a) Jean-Jacques Dessalines
- b) Toussaint Louverture
- c) Alexandre Pétion
- d) Henry Christophe

**2) Relie par des flèches.**

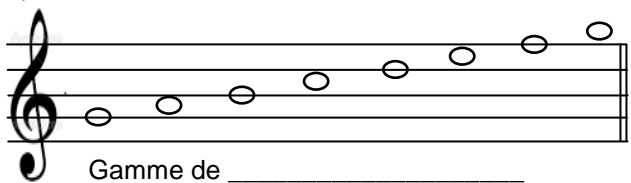
- |                            |                             |
|----------------------------|-----------------------------|
| 1) Johann Sébastien Bach   | a) meurt le 31 mai 1809     |
| 2) Ludwig Van Beethoven    | b) meurt le 5 Dec 1791      |
| 3) Joseph Haydn            | c) meurt 14 Avril 1759      |
| 4) Joseph Haydn            | d) meurt le 28 Juillet 1750 |
| 5) Georg Freidrich Haendel | e) meurt le 1827            |
| 6) If Amadeus Mozart       | f) meurt le 17 Oct 1849     |

**3) Nommez les gammes majeures suivantes puis corrigez-les. Clefs au choix.**

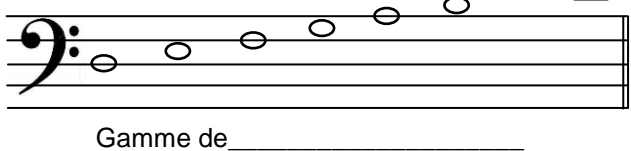
1)



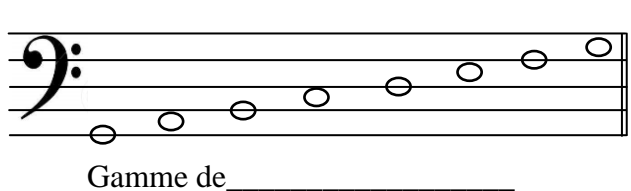
2)




3)



4)



**4) Placez quatre dièses ou quatre bémols : Les dièses et les bémols sont au choix avec les clefs.**



**5) Dans quelle période la musique sera moins spirituelle, plus humaine, plus accessible au cœur et portant plus populaire?**

R \_\_\_\_\_  
\_\_\_\_\_

**6) Dans quelle période l'harmonisation est basée sur des accords constants très peu de dissonances et repose principalement sur deux degrés fondamentaux : Le 1<sup>e</sup> tonique, le 5<sup>e</sup> dominante?**

R \_\_\_\_\_  
\_\_\_\_\_



Consignes:

1. L'usage de la calculatrice programmable est formellement interdit.
2. Tout gadget électronique (Tél., tablette, iPad, montre intelligente) est formellement interdit dans la salle d'examen.
3. Le silence est obligatoire dans la salle, il crée de meilleures conditions de travail.

Durée de l'épreuve : 2 hres 30

**Série A : Histoire de l'art 60 points**

**Dissertation : Réfléchir sur les théories de l'art**

**Sujet au choix.**

- 1- Présentez les moyens d'expression d'une œuvre d'art.
- 2- La culture peut-elle contribuer au développement économique d'Haïti?

**Questions obligatoires**

- 1- Soulignez la bonne réponse.
  - Il est à la fois architecte, sculpteur et artiste peintres de la renaissance, qui a participé à la réalisation de la basilique Saint Pierre en Italie.
  - Raphael, Lorenzo Bernini, Michel-Ange, Sandro Boccicelli.
- 2- Donnez le sens des termes artistiques suivants :
  - Ronde-Bosse, Fresque, Relief.
- 3- Précisez l'auteur de ces œuvres d'art :
  - Tour Eiffel, Testament du mal de mer, les villes imaginaires, la Cène, les arbres musiciens.
- 4- Quel est le vrai nom de l'homme culturel, journaliste ténor « Konpè filo » qui est décédé au cours du mois d'août?
- 5- Quel est l'équivalent de la fête d'Halloween Américain en Haïti?

**Série B : Arts plastiques (20 pts)**

**I- Complétez :**

- a) Les couleurs primaires, elles sont des couleurs pures et .....
- b) L'art plastique regroupe des domaines créatifs modernes comme.....
- c) Le point est l'élément d'espace, de dimensions très.....

**II- Qu'appelle-t-on couleurs?**

**III- Expliquez l'importance de l'art dans la vie. (En 5 lignes)**

**IV- Ajoutez à la place des points les mots qui manquent.**

a- Un plasticien est un..... ou..... ayant pour mission d'expression..... des..... ou des.....

**V- Établissez la différence entre couleurs lumières et couleurs pigmentaires.**

**Série C : Musique (20 pts)**

I- Cherchez la tonalité qui indique chacune des armatures suivantes.



Complétez :

- a) Relatif de Do majeur est \_\_\_\_\_
- b) Relatif de La majeur est \_\_\_\_\_
- c) Relatif de Mi majeur est \_\_\_\_\_
- d) Relatif de Ré majeur est \_\_\_\_\_

III- Reliez convenablement par une flèche les accords et les symboles suivants.

- a) Do mineur majeur septième \_\_\_\_\_ D- 7è
- b) Fa majeur septième \_\_\_\_\_ C- M7è
- c) La mineur septième \_\_\_\_\_ C- M7è
- d) Do septième majeur \_\_\_\_\_ A- m7è
- e) Ré mineur septième \_\_\_\_\_ FM7è

IV- Citez les noms des degrés qui font l'accord parfait.

V- L'intervalle de Do à Sol contient cinq degrés. Comment s'appellent-ils?



- Consignes :**
1. L'usage de la calculatrice programmable est formellement interdit.
  2. Tout gadget électronique (Tél., tablette, iPad, montre intelligente) est formellement interdit dans la salle d'examen.
  3. Le silence est obligatoire dans la salle, il crée de meilleures conditions de travail.

Durée de l'épreuve : 2 h 30

**Série A : Histoire de l'art (60 points)**

**I- Dissertation (40 pts.)**

Choisir un sujet :

- 1- Commenter cette assertion d'André Breton :  
« Haïtien est un peuple d'artiste »
- 2- Quel est le rôle des artistes dans la société ?

**II- Questions obligatoires (20 points)**

- 1- Remplir ce tableau en citant deux exemples pour chaque catégorie d'art : (2 pts.)

Arts	Exemple I	Exemple II
Arts visuels		
Arts de la scène		
Arts de l'espace		

- 2- Quelle est la matière de base des artistes du village Naille à Croix-des-bouquets ? (2 pts.)
- 3- Donner le nom de cet artiste :
  - a) L'un des artistes du Cap qui a marqué l'histoire de la peinture à côté de ces frères. (2 pts.)
  - b) Qui s'était fait passer pour un houngan et a laissé un patrimoine artistique remarquable, sur une période de 10 ans ? (2 pts.)
- 4- Comment s'appelle celui ou celle qui : (5 pts.)
 

Possède une collection : -----


Pratique le carrelage : -----

Fait des portraits : -----

Fait des tableaux : -----

Pratique le théâtre : -----

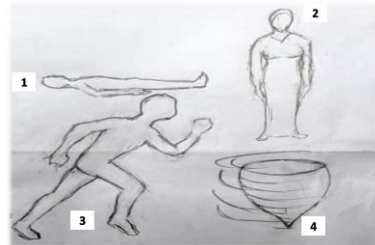
- 5- Ceci est un tableau de l'artiste peintre Hector Hyppolite. Existe-t-il une relation entre le sujet et notre histoire de peuple ? Quel est le sujet traité ? Qu'est-ce qui est représenté ? (3 pts.)



- 6- En retraçant les moments forts de l'histoire du Centre d'Art, indiquez sous quel président il a été créé. (2 pts.)
- 7- A quelle tranche de l'histoire de l'art haïtien se rattachent ces noms : Dewitt Peters, Garoute Jean Claude (Tiga), Lucien Price, Georges Liauteau. (2 pts.)

**Série B : Arts plastiques (20 pts)**

1. Arranger les éléments en ordre dans la préparation de l'argile. (5 pts)  
Broyage, malaxage, décantation, tamisage, mis au séchoir.
2. Dans quel domaine des arts plastiques on utilise cette liste de matériels : modelage, Argile, glaie, la cire, le plâtre, la plastiline? (4 pts)  
 Dessin  Peinture  sculpture  modelage.
3. Observer l'image ci-dessous d'après le rôle de la ligne (en Dessin), à quel type de ligne on peut identifier les lignes suivantes : (4 pts)




	Courbes
	Verticales
	Horizontales
	Obliques

4. Suivant le placement des couleurs en degré dans le cercle chromatique, les couleurs primaires pigments sont : (3 pts)
  - a. Rouge, vert, bleu.
  - b. Rouge, jaune, bleu.
5. Comment peut-on avoir une couleur primaire, pigment (quel mélange)? (4 pts)

**Série C : Musique (20 pts)**

- I- Utiliser les dièses et les bémols pour écrire les armatures suivantes sur la portée. (4 pts)



- II- Calculer le nombre de tons et de demi-tons pour chaque intervalle suivant. (6 pts)

- a) Seconde mineur
- b) Seconde majeure
- c) Tierce mineure
- d) Tierce majeure
- e) Quinte juste

- III- Citer les tétracordes supérieurs. (4 pts)

- IV- Regrouper les musiciens par période. (4 pts)  
Joseph Haydyn, Georg Fiedrich Haendel, Frederic Chopin, Johann Sebastien, Bech Ludwid, Van Luidgy Bethoven, Amadeus Mozart.

Baroque	Classique	Romantique

- V- Quelle est jusqu'à présent la réjouissance périodique la plus populaire de la ville de Léogâne ? (2 pts)



- Consignes: 1. L'usage de la calculatrice programmable est formellement interdit.  
2. Tout gadget électronique (Tél., tablette, iPad, montre intelligente) est formellement interdit dans la salle d'examen.  
3. Le silence est obligatoire dans la salle, il crée de meilleures conditions de travail.

Durée de l'épreuve : 2 hres 30 mn

**Série A : Histoire de l'art 60 points**

**Dissertation : Réfléchir sur les théories de l'art (40 pts)**

**Sujets au choix.**

- Montrez que la peinture haïtienne du XXème siècle fut le résultat des deux tendances imaginaires.
- Un tableau réaliste est-il un miroir fidèle de la réalité ?

**Questions obligatoires. (20 pts)**

- Complétez convenablement l'énoncé suivant.  
.....est le lieu où l'on expose et conserve certains tableaux et monument du vestige national, dont la Couronne de Souloouque. (3 pts)
- Relevez trois artistes peintres dont les tableaux sont imprégnés du Vaudou. (3 pts)  
André Pierre, Wilson Bigaud, Hector Hyppolite, Préfète Duffaut, Delacroix, Paul Gauguin.
- Donner le sens de ces sigles : MUPANAH, ISPAN. (4 pts)
- Choisissez le terme convenable au lieu de Culte du Vaudou. (2 pts)
  - Cathédrale
  - Hounfor
- Rapportez le nom du sculpteur haïtien à son œuvre dans le tableau : (8 pts)  
Gustave Eiffel, Albert Mangonès, Carpeaux, François Rude.

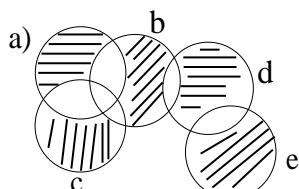
La liberté éclairant le monde	La pause	Le nègre Marron	Le départ des volontaires

**Série B : Arts plastiques (20 points)**

**I. Complétez.**

- Le compas est un instrument utilisé pour tracer des..... (2 pts)
- Les ciseaux servent à ..... (2 pts)
- L'équerre est un instrument de dessin utilisé pour tracer des ..... (2 pts)

**II. A partir du Croquis ci-dessous, Identifiez les ellipses et les lignes obliques. (3 pts)**




- Qu'est-ce qu'une plume ? est-il possible de dessiner avec ? si oui pourquoi ? (2 pts)
- Énumérez les éléments qui font partir des outils en arts plastiques. (4pts)
- Reliez la colonne A par la colonne B en identifiant les types de crayons suivants. (5 pts)

A	B
1	2H
3	5H
6	H
5	6H
2	3H

**Série C : Musique (20 pts)**

**I- Gamme de Fa majeure (3 pts)**



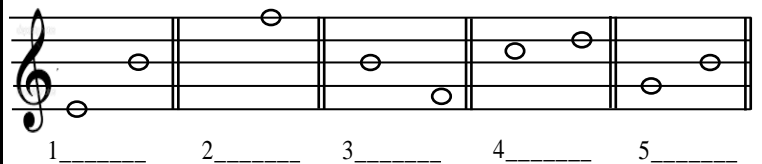
Indiquez dans les carrés les noms des notes qui forment l'accord.

--	--	--

**II- Définissez les vocables suivants. (4 pts)**

- Hauteur
- Intensité
- Le timbre
- Solfège

**III- Écrire les noms de ces intervalles. (5 pts)**



1 \_\_\_\_\_ 2 \_\_\_\_\_ 3 \_\_\_\_\_ 4 \_\_\_\_\_ 5 \_\_\_\_\_

**IV- Faites la différence entre son et bruit. (4 pts)**

**V- Complétez l'énoncé suivant. (4 pts)**

Les demi-tons se place entre \_\_\_\_\_ degré et \_\_\_\_\_ degré, entre \_\_\_\_\_ note et \_\_\_\_\_ note.



- Consignes:** 1. L'usage de la calculatrice programmable est formellement interdit.  
2. Tout gadget électronique (Tél., tablette, iPad, montre intelligente) est formellement interdit dans la salle d'examen.  
3. Le silence est obligatoire dans la salle, il crée de meilleures conditions de travail.  
Durée de l'épreuve : 2 hres 30

**Série A : Histoire de l'art 60 points**

**I- Dissertation (40 points)**

- Choisir un sujet
- 1- Quel peut-être le rôle d'un artiste dans une société comme la nôtre en 2022?
- 2- Présenter les différents apports du Centre d'Art à l'émergence de l'art haïtien?

**II- Questions obligatoires (20 points)**

- 1- Dans le domaine de l'art, le 11 mai 1944 marque : (2 pt.)
  - a) L'arrivée d'André Malraux en Haïti.
  - b) L'inauguration du foyer des arts plastiques.
  - c) La création du Centre d'Art.
- 2- 1950 marque : (1 pt.)
  - a) La création du foyer des arts plastiques.
  - b) La mort de l'artiste plasticien Lucien Price.
  - c) La création du musée d'art du Collège Saint-Pierre.
- 3- Novembre 1972 marque : (1 pt.)
  - a) Création de la galerie Brochette
  - b) Le début de la grande exposition internationale à Cuba.
- 4- Compléter convenablement les énoncés suivants. (6 pts.)
  - a) L'auteur du 1er ouvrage sur l'art haïtien est .....
  - b) Le nom de la première revue sur l'art Haïtien, du Centre d'Art est .....
  - c) ..... marque la date de la première exposition locale du Centre d'Art.
  - d) ..... sont cinq parmi les membres fondateurs du Centre d'Art.
  - e) Le Centre d'Art a été créé sous le président .....
  - f) ..... était le premier directeur du Centre d'Art.
- 5- Compléter le tableau ci-dessous en fonction de l'interrogation suivante : « Que fait le ? » (4 points)

Céramiste -----
Fondeur -----
Graveur -----
Bijoutier -----
Menuisier -----

- 6- Présenter (3) trois tableaux d'Hector Hyppolite en proposant pour chacun cette fiche : (6 points)
  - Le titre du tableau
  - Le personnage central
  - Le sujet présenté
  - Le commentaire

**Série B : Arts plastiques (20 pts)**

**I- Souligner la ou les bonnes réponses.**

- 1- Ces trois couleurs nous donnent une sensation de profondeur dans la perspective Aérienne : (3 pt.)  
Jaune, orange, rouge, vert, bleu, violet.
- 2- Le mélange des trois couleurs primaires donne un : (2 pt.)  
gris, jaune, bleu, marron, noir, rouge.
- 3- Choisir au moins deux parmi ces éléments, puis dessiner une nature morte : (5 pt.)
  - a) chat mort.
  - b) Chaise
  - c) homme couché
  - d) orange, avocat.


**II- Cocher la bonne réponse**

- 1- Vous êtes sur la place de Dessalines, aux champs de Mars, et vous voulez réaliser un dessin sur l'empereur. Sachant que l'objectif mesure 3 m de la base à la hauteur de personnage. (4 pt.)
    - a) A quelle distance vous pouvez avoir un bon dessin ?  
 1m  2m  3m  6m
    - b) Quel sera l'instrument de mesure à un œil pour avoir un bon dessin ?  
 Le décimètre  
 Une règle  
 Le crayon.
  - 2- L'une d'entre elles est une peinture transparente.  
 Agriculture  Gravure  Aquarelle (2 pt.)
- III- Etablir la différence entre la peinture à l'aquarelle et la peinture à l'huile. (4 pt.)**

**Série C : Musique (20 pts)**

- I- Citer deux compositeurs de la musique baroque. (2 pt.)
- II- Définir les mots suivants : (4 pt.)
  - a) Dièse
  - b) Pianiste
  - c) Musique instrumentale
  - d) Tierce mineure

**III- Utiliser les notes suivantes pour former un accord mineur : (4 pt.)**



- IV- Expliquer pourquoi les huit (8) notes en ordre consécutive ne sont pas une gamme majeure. (4 pt.)
- V- Dans le domaine musical, résumer en peu de lignes les périodes classiques et romantiques. (6 pt.)